

Tema:

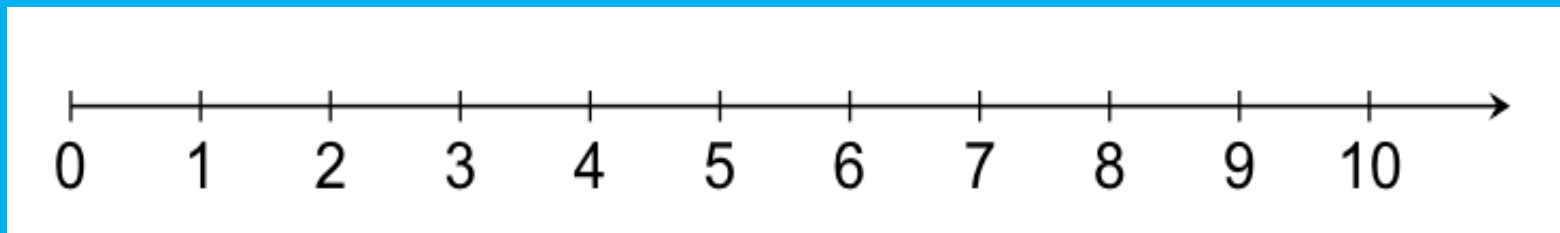
Wiskunde

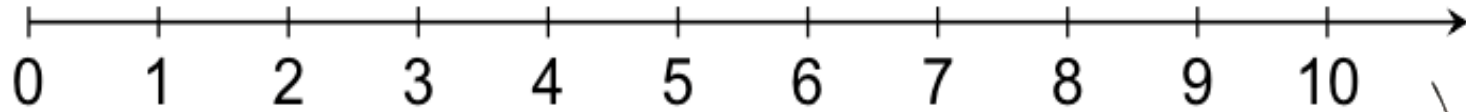
Rangskik getalle

Graad I



Voordat ons kan rangskik, is dit belangrik dat ons weet waar die getalle op die getallelyn lê.





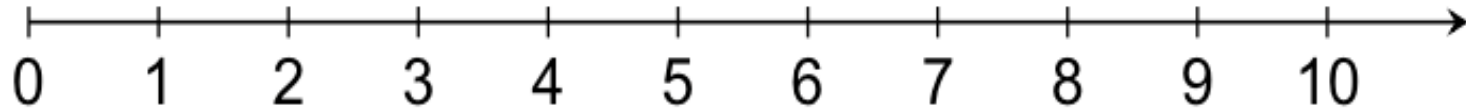
Watter getal is die **grootste?** 3 of **9**

Watter getal is die **grootste?** **7** of 6

Watter getal is die **kleinste?** **2** of 4

Watter getal is die **kleinste?** 8 of **5**





Kan jy die getalle van 0 tot 10 rangskik?

9

8

4

10

1

7

5

0

6

2

3

Kan jy die getalle van 0 tot 10 rangskik?

0

Mooi so!

10

1

9

2

8


3

4

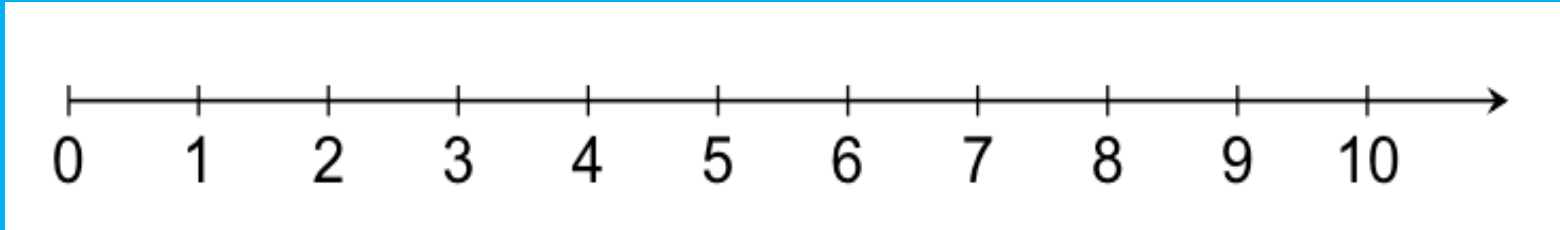
5

6

7



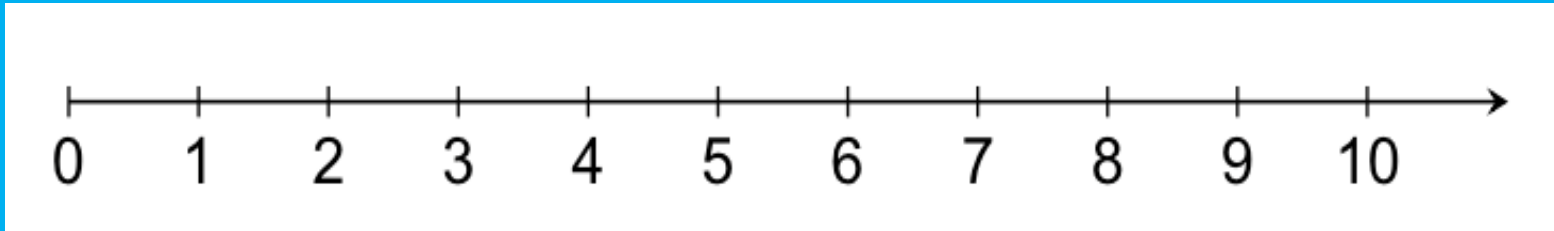
Ons gaan nou weer rangskik, maar hierdie keer gaan ons net sekere getalle gebruik. Kyk na die getallelyn om jou te help.



Rangskik die getalle van *klein na groot*. Trek 'n strepie deur die getal indien jy hom klaar gebruik het.

~~5~~   ~~3~~   ~~1~~   ~~4~~

1   3   4   5



Rangskik die getalle van *groot na klein*. Trek 'n strepie deur die getal indien jy hom klaar gebruik het.

9      4      6      8

~~9~~      ~~4~~      ~~6~~      ~~8~~

9      8      6      4



Kry gou 'n papier! Kyk of jy die volgende getalle kan rangskik van klein na groot.

6 4 10 3

Kyk of jy die volgende getalle kan rangskik van groot na klein.

7 9 6 8



Ou  
slimkop!