



Opbreek metode: Plus

Graad 3




Opbreek methode



Wat is die opbreek metode?

1. Ons moet ons getalle **OPBREEK**
2. Ons moet hulle in **Honderde** , **Tiene** en **Ene** opbreek.
3. Opbreek is 'n ander woord vir **HERBENOEM**

Ons het ons getalle herbenoem toe ons met plekwaarde gewerk het. Onthou julle die huisies? Kom ons loer weer daarna! 




PLEKWAARDE LAAN

Honderde



Tiene



Ene



$$47 + 35 = 82$$

$$(40+7) + (30+5)$$

$$40 + 30 = 70$$

$$7 + 5 = 12$$

$$70 + 10 + 2 = 82$$


Kom ons kyk na plus somme:

Herbenoem albei getalle.

Tel al jou tiene by mekaar.

Tel al jou ene by mekaar.

Tel jou twee antwoorde bymekaar. 70 en 12



Klaswerk: Plussomme

Probeer een som saam met jou juffrou en doen die res in jou werkboek.

1. $53 + 39 =$

3. $47 + 29 =$

2. $75 + 16 =$

4. $62 + 24 =$

Huiswerk – Opbreek somme is in jou Wiskunde pakkie!



Klaswerk: Plussomme MEMO

1. $53 + 39 =$

$$(50+3) + (30+9)$$

$$50 + 30 = 80$$

$$3 + 9 = 12$$

$$80 + 10 + 2 = \underline{92}$$

2. $75 + 16 =$

$$(70+5) + (10+6)$$

$$70 + 10 = 80$$

$$5 + 6 = 11$$

$$80 + 10 + 1 = \underline{91}$$

3. $47 + 29 =$

$$(40+7) + (20+9)$$

$$40 + 20 = 60$$

$$7 + 9 = 16$$

$$60 + 10 + 6 = \underline{76}$$

4. $62 + 24 =$

$$(60+2) + (20+4)$$

$$60 + 20 = 80$$

$$2 + 4 = 6$$

$$80 + 6 = \underline{86}$$

