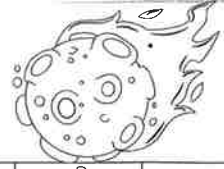


# Dag 2 – Tuiswerk

## Getalpatrone en getalbegrip



1. Voltooi die getalpatrone.

0	20	40	60	80	100	120	140	160	180
200	220	240	260	280	300	320	340	360	380
400	420	440	460	480	500	520	540	560	580
610	620	630	640	650	660	670	680	690	700
25	50	75	100	125	150	175	200	225	250

(5)

2. Rangskik die getalle.

Groot na klein	34	120	77	195	459	238	687
	687	459	238	195	120	77	34
Klein na groot	199	605	46	155	321	700	12
	12	46	155	199	321	605	700

(2)

3. Skryf die antwoorde neer.

	Breek die getal af in HTE	Wat is die waarde van die onderstreepte syfer in die getal?
127	100 + 20 + 7	20
439	400 + 30 + 9	400
607	600 + 0 + 7	7

(3)

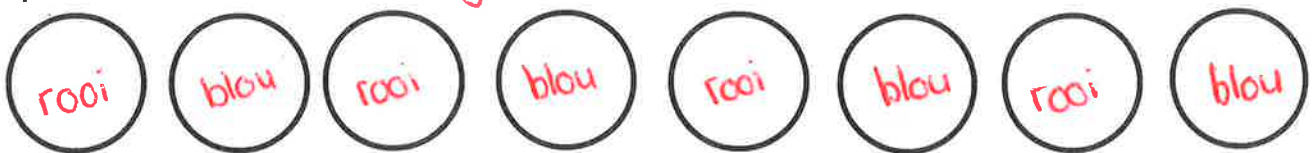


Totaal: 10 plus totaal van werkvel wat uit 20 punte getel het.

**Groottotaal: 30 punte**

# Meetkundige patrone

Kleur die sirkels in met verskillende kleure sodat dit 'n patroon vorm. *Enige patroon: bv*



Voltooi die patroon deur die volgende vorms te teken.


## 3<sup>o</sup>-SYFER PLUS 2<sup>o</sup>-SYFER getal:

PLUS:

$$341 + 26 =$$


$$(300 + 40 + 1) + (20 + 6)$$

$$\text{H: } 300 + 0 = 300$$

$$\text{T: } 40 + 20 = 60$$

$$\text{E: } 1 + 6 = 7$$

$$300 + 60 + 7 = 367$$



### DOEN NOU JOU EIE SOMME:

$$263 + 45 =$$

$$(200 + 60 + 3) + (40 + 5)$$

$$\text{H: } 200 + 0 = 200$$

$$\text{T: } 60 + 40 = 100$$

$$\text{E: } 3 + 5 = 8$$

$$200 + 100 + 8 = 308$$

$$541 + 54 =$$

$$(500 + 40 + 1) + (50 + 4)$$

$$\text{H: } 500 + 0 = 500$$

$$\text{T: } 40 + 50 = 90$$

$$\text{E: } 1 + 4 = 5$$

$$500 + 90 + 5 = 595$$

$$386 + 28 =$$

$$(300 + 80 + 6) + (20 + 8)$$

$$\text{H: } 300 + 0 = 300$$

$$\text{T: } 80 + 20 = 100$$

$$\text{E: } 6 + 8 = 14$$

$$300 + 100 + 10 + 4 = 414$$

$$173 + 92 =$$

$$(100 + 70 + 3) + (90 + 2)$$

$$\text{H: } 100 + 0 = 100$$

$$\text{T: } 70 + 90 = 160$$

$$\text{E: } 3 + 2 = 5$$

$$100 + 100 + 60 + 5 = 265$$

