



Dag 1


Dag 1: Tuiswerk

Kombinaties

20	
1	19
5	15
3	17
4	16
2	18
6	14
7	13
8	12
10	10
11	9

16	
1	15
3	13
6	10
5	11
4	12
2	14
8	8
9	7

Benoem die plekwaarde van die onderstreepte syfer.



23 <u>5</u>	<u>3</u> 13	<u>6</u> 7	3 <u>2</u> 5	<u>8</u>
ene	honderde	tiene	tiene	ene

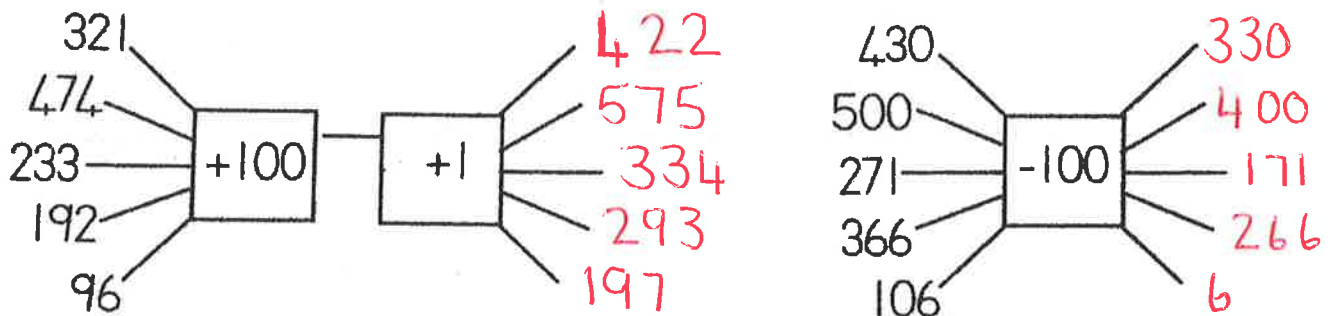
Benoem die getalwaarde van die onderstreepte syfer.

7 <u>3</u>	<u>2</u> 1	1 <u>9</u> 5	<u>7</u>	2 <u>3</u> 5
3	20	90	7	30

c) Reël: Tel ...aan... (aan/terug) in veelvoude van ...25...

0	25	50	75	100	125	150	175	200	225
---	----	----	----	-----	-----	-----	-----	-----	-----

Vind die antwoord:

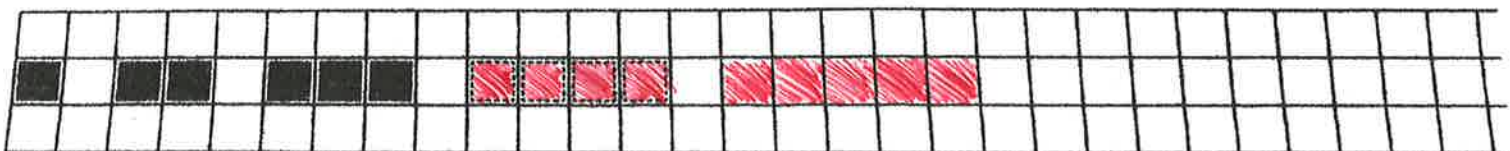


Net vir die pret! Kyk hoe gou jy die syfers op die nommerplate bymekaar kan tel.

CN 1983 ...21...	CF 97443 ...27...	CJ 43665 ...24...	CA 40443 ...15...	CY 4556 ...20...
CFR 3356 ...17...	CEY 9821 ...20...	CL 73735 ...25...	CW 44233 ...16...	CK 76341 ...21...

Brei die patroon uit:

Bestudeer die patrone. Beskryf die patrone kortliks hieronder en brei hulle uit.



Dit is 'n vergrotende patroon. Dit raak elke keer een blokkie meer.

Beskryf, vergelyk en orden getalle.

Orden die getalle in dalende orde

220	26	126	622	162	226
622	226	220	162	126	26



Orden die getalle in stygende orde.

124	274	240	140	174	340
124	140	174	240	274	340



Watter getal kom voor, na of tussen?

165... 166 ?

199... 200 ?

219... 220... 221?

199... 200?

247... 248... 249?

432... 433 ?

189... 190?

299... 300 ?

236... 237?

Voltooi meer as of minder as.

5 meer as 233 = 238	10 meer as 480 = 490
25 minder as 356 = 331	20 meer as 390 = 410
50 meer as 250 = 300	6 meer as 132 = 138
10 minder as 365 = 355	25 minder as 375 = 350