



Dag 1

Datum: _____

106

Kwartaal 4

In en om die huis



Bakdag.

Tannie Sophie bak brood in haar oond.
Wys hoe laat dit is op hierdie horlosies.




Sy sit die brood kwart oor 4 in die oond.

Sy haal die brood vyf oor vyf uit.

Hoe lank bak die brood?

50 minute



Ann se ma gebruik 'n mikrogolfoond. Dit is baie vinniger.
(16:00)

Dit is nou 4:30. Kyk na die baktyd wat op die mikrogolfoond gestel is.

Wanneer sal die brood gereed wees? 5 voor 5 / 4:55

Hoeveel vinniger is die mikrogolf as die ander oond? 25 minute.



Oggendwerk.

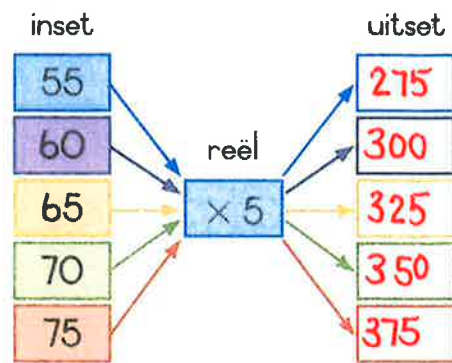
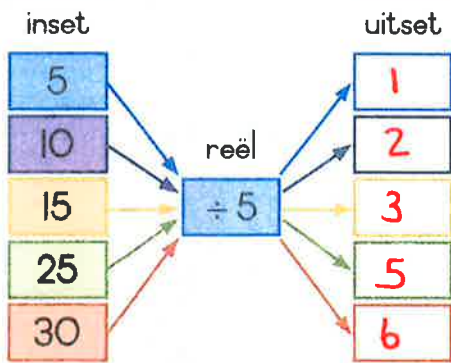
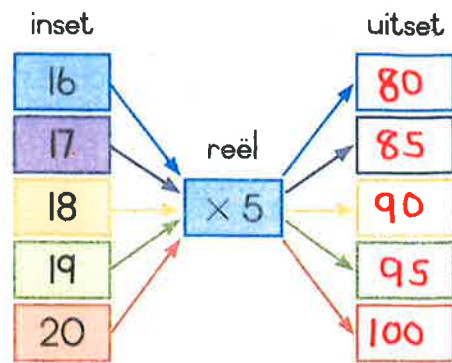
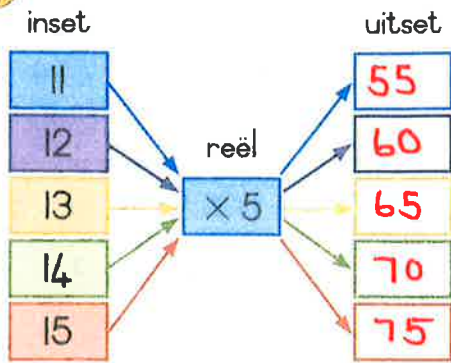


Maria en Pauline help Saterdag hulle ma in die huis. Hoe lank neem elke taak?

	Begin	Eindig	Hoe lank?
Maak ontbyt	6:15	6:40	25 minute
Was skottelgoed	7:20	8:05	45 minute
Maak die kombuis skoon	8:20	9:15	55 minute
Maak die badkamer skoon	10:00	10:25	25 minute
Maak die slaapkamers skoon	11:30	12:15	45 minute



Voltooi die vloedigramme.



uitdaging:



Voltooi die tabel hieronder:

\times	1	2	3	4	5	6	7	8	9	10
5	5	10	15	20	25	30	35	40	45	50

\times	11	12	13	14	15	16	17	18	19	20
5	55	60	65	70	75	80	85	90	95	100

Hoe het jy by die antwoorde uitgekom wat in die blou blokkies geskryf moet word?

die antwoord.



Los die volgende op:

Mj ma het pakkies lekkers vir R70 koop. $R70 \div 5$

Sy het R5 per pakkie betaal.

Hoeveel pakkies lekkers het sy koop?

$50 \div 5 = 10$

$20 \div 5 = 4$

$10 + 4 = 14$ pakkie lekkers



Onderwyser:
Teken:
Datum:

