













7. Waar gaan Nomakwezi wees indien sy hierdie aanwysings van haar huis af volg.

Sy loop in die grondpad af, oor die brug en oor die spoorlyn totdat sy by die teerpad kom. Dan draai sy links en loop met die pad langs totdat sy by 'n grondpad aan haar linkerkant kom. Sy loop al met hierdie pad langs. Waar is Nomakwezi?

SLEUTEL			
	Gebou		Moeras
	Poskantoor		Rivier
	Skool		Hoofteerpad
	Hospitaal		Sekondêre pad
	Kerk		Grondpad
	Lughawe		Spoorlyn
	Karavaanpark		Mielieland
	Brug		Voetpaadje

8. Wat is die vinnigste pad vir Nomakwezi om skool toe te loop? Is dit met die voetpaadjie langs of padlangs?
9. Beskryf die kortste roete van Nomakwezi se huis tot by die skool.