

Leeswerk

Woordherkenning:

brood

glo

graad

bril

glad

graat

broek

gluur

graan

brief

gleuf

groot

braai

glas

graf

bruin

gloei

groet

steek

slak

swaai

stoel

slaan

sweer

stoor

slaap

swel

staan

slim

sweep

stoep

slaai

sweet

stoot

slaag

swem

Pas die vorms in sy regte raam.



Datum _____

Sinne



47

Kyk na die prentjies en voltooi die sinne.

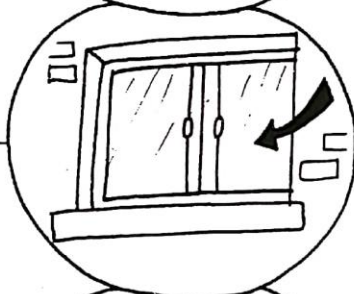
Dit is 'n _____



Dit is 'n _____



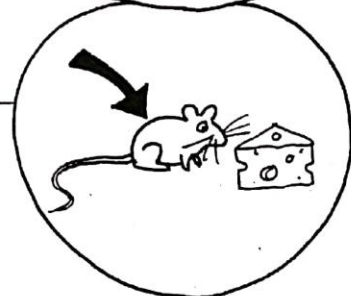
Dit is 'n _____



Dit is 'n _____



Dit is 'n _____



Lees nou die sinne.

Datum _____



Skommel-klankies

Bou woorde met hierdie skommel-klankies.

Voorbeeld:

→ stui → tuis

uidn _____

kdui _____

uitk _____

tsui _____

Lees en
sê al
die
woorde.



Omkring die woorde

Omkring die woorde met 'n ui-klankie en skryf hulle neer.

bui	yl	luik	buit
by	uil	lyk	byt
lui	pyn	rys	ruim
ly	puin	ruis	rym

_____	_____	_____	_____
_____	_____	_____	_____

Lees en sê die woorde weer.



Rymwoorde

Bou rymwoorde met die letters.

h m r v

Voorbeeld

h u i l



— u i l

— u i l

— u i l

Klank
en sê
die
woorde
weer.

m b h l v j r s t

m u i s

— u i s

— u i s

— u i s

— u i s

— u i s

— u i s

— u i s

— u i s

d k w

d u i f

— u i f

— u i f



Klank
en sê
die
woorde
weer.



Klank
en sê
die
woorde
weer.

Datum:

Ma koop 90
albasters. Sy gee 'n
gelyke aantal
aan 5 meisies.
Elke meisie kry
 albasters.


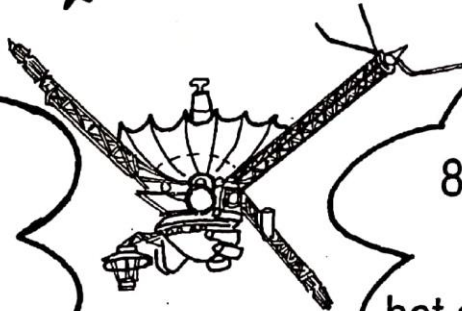
4 seëls kos
48 sent.
2 seëls kos
 sent.

Pa koop
24 liters Coke.
Daarmee kan hy
 2-liter bottels
vol maak.

Ek eet 6 lekkers
in 1 minuut. Ek
eet lekkers in
6 minute.

'n Kat kry
8 kleintjies. Sy en
haar kleintjies
het saam pote.

12 driehoeke
het
hoeke.



Datum:

Kleur die antwoorde op die tabel in:

verdubbel 7

$30 + 4$

20 minder as 74

$60 + 5$

64 tel 3 by

nege-en-sestig

verdubbel $24 - 1$

20 minder as 97

helfte van 48

10 meer as 34

5 groter as 59

verdubbel $30 + 6$


10 minder as 78

$80 - 10$

30 meer as 27

verdubbel $42 + 3$

Die getal wat jy gebou het, sal oor vier jaar my ouderdom wees.



1	2	3	4	5	6	7	8	9	10
11	12	13	14	15	16	17	18	19	20
21	22	23	24	25	26	27	28	29	30
31	32	33	34	35	36	37	38	39	40
41	42	43	44	45	46	47	48	49	50
51	52	53	54	55	56	57	58	59	60
61	62	63	64	65	66	67	68	69	70
71	72	73	74	75	76	77	78	79	80
81	82	83	84	85	86	87	88	89	90
91	92	93	94	95	96	97	98	99	100

Omkring die letter wat presies soos die eerste een sal lyk.

k

j

i

l

h

n

t

s

f

r

u

t

y

j

n

s

t

j

r

t

Datum _____


Sinne



28

Kyk na die prentjies en voltooi die sinne.


Dit is 'n _____



Dit is 'n _____



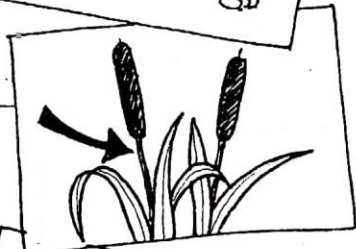
Dit is 'n _____



Dit is 'n _____



Dit is 'n _____



Dit is 'n _____



Lees nou die sinne.



Skommel-klankies

Bou woorde met hierdie skommel-klankies.

Voorbeeld:

ierd → drie

ieks _____

pie d _____

ierm _____

rvie _____

fiel _____

iens _____

Lees en
sê al
die
woorde.



Omkring die woorde

Omkring die woorde met 'n ie-klankie en skryf hulle neer.

vies

weg

vir

kiep

kiem

dof

tier

bus

dief

wys

lief

wiel

Lees en sê die woorde weer.

Wiskunde:

Datum:

Ek koop 4 seëls. Elke seël kos 30 sent. Hoeveel betaal ek? Hoeveel betaal ek as ek 2 seëls koop?

4 seëls 2 seëls

Hoeveel van elke munt sal ek gebruik?



koppies R25							
jellie R3,50							
seep R90c							
melk R2,30							
gas R36							
eiers R2,75							

Gebruik ses munte om R1 te maak:

$$\bigcirc + \bigcirc + \bigcirc + \bigcirc + \bigcirc + \bigcirc = R1$$










$$\bigcirc + \bigcirc + \bigcirc + \bigcirc + \bigcirc + \bigcirc = R1$$

$$\bigcirc + \bigcirc + \bigcirc + \bigcirc + \bigcirc + \bigcirc = R1$$

Datum:

Help my om die leidrade op te los en die grafiek in te kleur.



60c									
55c									
50c									
45c									
40c									
35c									
30c									
25c									
20c									
15c									
10c									
5c									
0c									
									

Die kuiken kos 35c.

Die eend kos 25c meer as die kuiken.

Die vis kos dieselfde as die kuiken.

Die haas kos 10c minder as die vis.

Die padda kos die helfte soveel as die eend.

Die kat kos dubbel soveel as die haas.

Die hond kos 30c meer as die padda.

Die voël kos 15c minder as die hond.

Die rot kos dieselfde as die haas.

Hoeveel minder kos die haas as die vis?

Datum:

Die angels
van tien bye.



Die kolle op
vier besies.

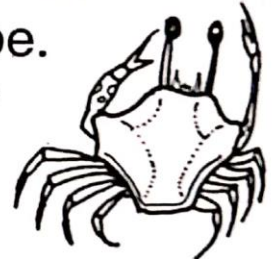


Potjiekos,
lekker kos. . .



Die snorbaarde
van agt katte.

Die bene van
tien krappe.



Die ore van vyf-
en-twintig honde.



Die bene van drie
spinnkoppe.



Die oë van
nege paddas

Die vlerke van sewe
vlermuise.



Die ore van
twaalf hase.

Die sterte
van twintig
rotte.

