




Voorgestelde antwoorde

b Henne

1 a

Die tipe diere op Sibusisu se plaas	
Naam	Aantal diere
koeie	••••••••
skape	•••••
henne	••••••••••
perde	••
honde	•

- 2 a Die tabel het drie kolomme en ses rye.
 b Gewasse
 c Die boer is moontlik baie in sy skik met die resultaat aangesien daar 'n groot toename van 8 ton mielies is van 2010 tot 2011.
 d Aartappels toon die grootste toename.
- 3 a Aantal koeie wat in die kampe wei.
 b

Aantal koeie wat in die kampe wei	
Kamp	Aantal koeie
Kamp 1	
Kamp 2	
Kamp 3	
Kamp 4	
 stel 1 telling voor	






- c Die aantal koeie is min of meer dieselfde. Alle getalle van 10 tot 13 koeie.
 d Daar is 46 koeie altesaam.

Aantal liter = $46 \times 12 = 46 \times 10 + 46 \times 2 = 460 + 92 = 552$ liter

4 a

Hoeveelheid groente geoes		
Tipe groente	Telling	Frekwensie
Kool		10
Pampoens		12
Herbertpampoens		10
Botterskorsie		8

b

Hoeveelheid groente geoes	
Groente	Getal geoes
Kool	
Pampoens	
Herbertpampoens	
Botterskorsie	
 stel 1 telling voor	

c Veertig stukke groente is geoes.

d Pampoene

e Gee vir elkeen van die tien gesinne vier stukke groente. Ag gesinne sal een van elk kry, en twee gesinne sal elk 'n ekstra pampoens in plaas van 'n botterskorsie kry.